

УЧИМСЯ СТРОИТЬ СЕЧЕНИЯ

А.В. Шевкин,
Москва, avshevkin@mail.ru

Аннотация: В статье рассмотрены два способа построения сечений куба — с помощью следа секущей плоскости и с помощью вспомогательных плоскостей (сечений), даны советы по решению задач, связанных с сечениями.

Ключевые слова: Построения сечений; секущая плоскость; след секущей плоскости; вспомогательное сечение.

Одной из главных проблем, с которой сталкиваются десятиклассники в начале изучения курса стереометрии — это чтение двумерного чертежа, изображающего фигуру трёхмерного пространства. В последние годы эта проблема стала серьёзнее, так как из школьной программы исчез предмет «Черчение», который позволял приучать школьников к чтению пространственного чертежа. Попробуем компенсировать потери с помощью нескольких полезных советов.

В нашем изложении без определений используются понятие куба, который давно известен учащимся. В некоторых случаях будем опираться на интуитивно ясные факты, указывая, что они должны быть позднее доказаны, так как наша задача заключается в том, чтобы научиться строить сечения куба. А это полезно для развития умения видеть объёмное изображение на плоском чертеже и тренировки в использовании первых простых фактов стереометрии. Без таких задач и без раскрытия перспектив применения сечений начальный этап изучения геометрии может показаться скучным.

Строить сечения надо начинать как можно раньше, так как рассуждения о взаимном расположении прямых и плоскостей в таком случае будут опираться на имеющийся у учащихся опыт общения с пространственными фигурами.

Весь материал разбит на три блока — урока, но использовать его можно в той же последовательности на нескольких уроках. Звёздочкой выделены задачи «на вырост» — их назначение заключается в том, чтобы показать, какие задачи можно научиться решать, освоив построение сечений.

Урок 1. Сечения куба

1. Дано изображение куба $ABCD A_1 B_1 C_1 D_1$ (рис. 1). Пересекает ли прямая BB_1 прямую DC ?

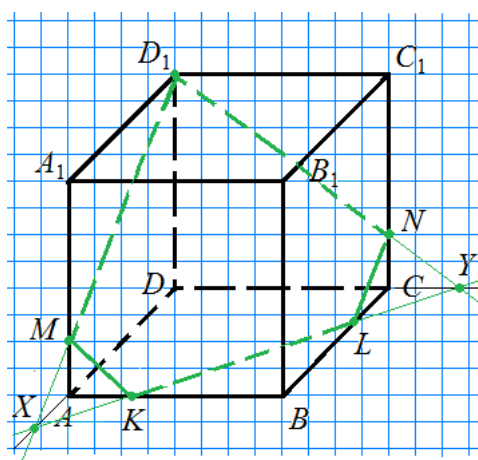


Рис. 4

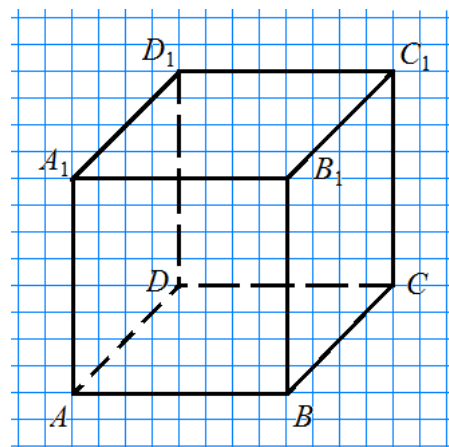


Рис. 1

Нет. Эти прямые лежат в *параллельных плоскостях*¹ ABB_1 и DCC_1 , не имеющих общих точек, поэтому лежащие в них прямые не имеют общей точки. Параллельность противоположащих граней куба мы не доказали ссылками на аксиомы и их следствия, но чуть позже этот факт надо будет доказать с помощью признака параллельности плоскостей.

На поставленный вопрос учащиеся иногда отвечают так: «Эти прямые лежат в разных плоскостях».

СОВЕТ 1. Никогда не употребляйте эту фразу.

Дело в том, что даже одна прямая AB лежит в двух разных плоскостях: ABB_1 и ABC . (Найдите ещё одну такую плоскость. Сколько существует таких плоскостей?) А две прямые могут лежать в разных плоскостях и иметь общую точку. Например, прямые AB и BC лежат в разных плоскостях ABB_1 и BCC_1 , но имеют общую точку B .

2. Назовите другие пары прямых, которые на рисунке 1 кажутся пересекающимися, но на самом деле не являются таковыми.

Если представить, что некоторая плоскость (называемая *секущей плоскостью*) отсекала от куба его часть, то на «срезе» куба мы увидим многоугольник — *сечение куба*.

Сечением куба называют многоугольник, стороны которого лежат на поверхности куба и в секущей плоскости.

3. Дан куб $ABCD A_1 B_1 C_1 D_1$. На его ребрах AA_1 и CC_1 отметили точки M и N соответственно так, что $AM : MA_1 = CN : NC_1 = 1 : 3$. Постройте сечение куба плоскостью MND_1 .

СОВЕТ 2. Данные точки секущей плоскости и прямые, принадлежащие секущей плоскости, выделяйте цветом.

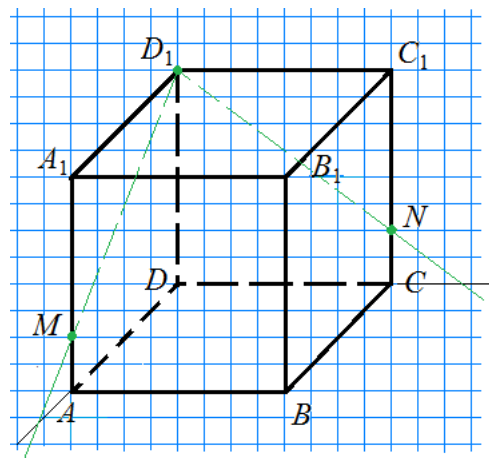


Рис. 2

Следуя совету 2, выделим точки M , N и D_1 зелёным цветом (рис. 2²). Проведём прямые D_1M и D_1N — их тоже выделим зелёным цветом.

Выделение цветом подчёркивает принадлежность точек, прямых, отрезков секущей плоскости.

СОВЕТ 3. Проводя прямую, думайте о том, в какой плоскости она лежит и не пересекает ли построенная прямая какую-либо прямую этой плоскости.

¹ Здесь и далее выделенный курсивом термин или факт может оказаться ещё не изученным на момент чтения статьи, надо обязательно найти его в учебнике, понять его смысл.

² Постройте в тетради рисунок 2, дополняйте его до получения сечения, следуя тексту.

Следуя совету 3, в плоскости ADD_1 найдём точку X — пересечение прямых D_1M и AD , а в плоскости CDD_1 — точку Y — пересечение прямых D_1N и DC . Точки X и Y тоже выделим зелёным цветом — они лежат в секущей плоскости.

Теперь в плоскости ABC проведём прямую XY , она пересечёт прямые AB и BC плоскости ABC в точках K и L соответственно. Прямую XY и полученные точки пересечения выделим зелёным цветом (рис. 4).

В плоскости ABB_1 соединим отрезком точки M и K , а в плоскости BCC_1 — точки N и L . Эти отрезки тоже выделим цветом. Отрезки MK , KL , LN , ND_1 и D_1M лежат на поверхности куба и в секущей плоскости. Они составляют границу многоугольника $MKLND_1$, являющегося сечением куба плоскостью MND_1 . Сечение выделим жирной линией.

Прямую пересечения секущей плоскости с плоскостью основания куба называют *следом секущей плоскости*.

4. Запишем построение сечения³.

Построение.

- 1) D_1M ; $D_1M \cap AD = X$;
- 2) D_1N ; $D_1N \cap DC = Y$;
- 3) XY — след секущей плоскости MND_1 ;
 $XY \cap AB = K$; $XY \cap BC = L$;
- 4) MK ;
- 5) NL ; $MKLND_1$ — искомое сечение.

Домашнее задание.

5. Почему $MKLND_1$ является многоугольником?

6. Докажите, что прямая D_1M принадлежит секущей плоскости.

7. Пусть в задаче 3 ребро куба $ABCD A_1 B_1 C_1 D_1$ равно a . Вычислите длины отрезков AX , AK , CL , CY .

8. На ребрах AA_1 и CC_1 куба $ABCD A_1 B_1 C_1 D_1$ отметили точки M и N соответственно так, что $AM : MA_1 = CN : NC_1 = 1 : 3$. На ребре DD_1 отметили точку P так, что $DP : PD_1 = 3 : 1$. Постройте сечение куба плоскостью MNP .

9.* Вычислите площадь сечения, построенного в задаче 3, если ребро куба равно a .

Указание. Вычислите площадь треугольника XD_1Y , потом площади двух подобных ему треугольников.

10.* *Задача «на вырост»*⁴. В каком отношении сечение делит объём куба в задаче 3?

Указание. Посмотрите в учебнике *перпендикуляр к плоскости, признак перпендикуляра к плоскости, формулу объёма пирамиды*, подумайте, как можно вычислить объём части куба, заключённой под сечением куба.

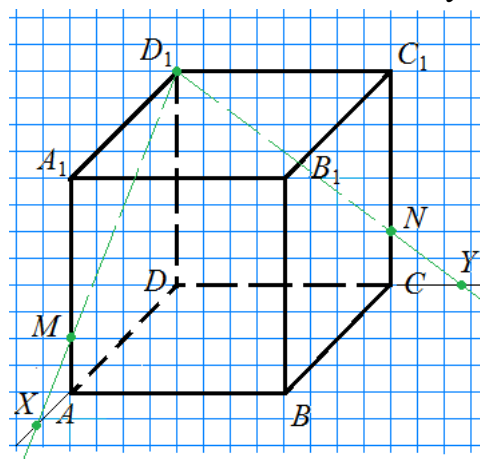


Рис. 3

³ Под каждым новым номером в записи построения дан новый шаг построения и его результаты, если они есть.

⁴ Похожие задачи раньше встречались на конкурсных экзаменах в вузы.

Урок 2. Сечения куба

Разбор домашнего задания.

5. Из построения следует, что отрезки MK , KL , LN , ND_1 и D_1M лежат в секущей плоскости и образуют замкнутую ломаную, не имеющую самопересечений. $MKLND_1$ является многоугольником по определению.

6. Точки D_1 и M принадлежат секущей плоскости. Через них провели прямую D_1M , все точки которой принадлежат этой плоскости. Поэтому прямая D_1M принадлежит секущей плоскости. Это следует из аксиомы I планиметрии, в которой сказано: Через любые две точки можно провести прямую, и только одну. (Погорелов, 7-9 классы, с. 4).

7. Пусть $XA = x$. Из подобия треугольников XDD_1 и XAM (по двум углам) следует, что $\frac{x+a}{x} = \frac{a}{\frac{a}{4}}$, откуда $x = \frac{a}{3}$. Итак, $XA = \frac{a}{3}$, аналогично $CY = \frac{a}{3}$. Тогда

$XD = YD$ и углы при основании равнобедренного прямоугольного треугольника XDY равны по 45° . Но тогда треугольники XAK и LCY прямоугольные с острым углом 45° , они равнобедренные, следовательно, $AX = AK = CL = CY = \frac{a}{3}$.

8. Построение.

- 1) PM ; $PM \cap AD = X$;
- 2) PN ; $PN \cap DC = Y$;
- 3) XY — след секущей плоскости MNP ; $XY \cap AB = K$; $XY \cap BC = L$;
- 4) MK ;
- 5) NL ; $MKLN$ — искомое сечение.

9. Ответ. $\frac{7a^2\sqrt{34}}{36}$.

10. Ответ. 25: 11.

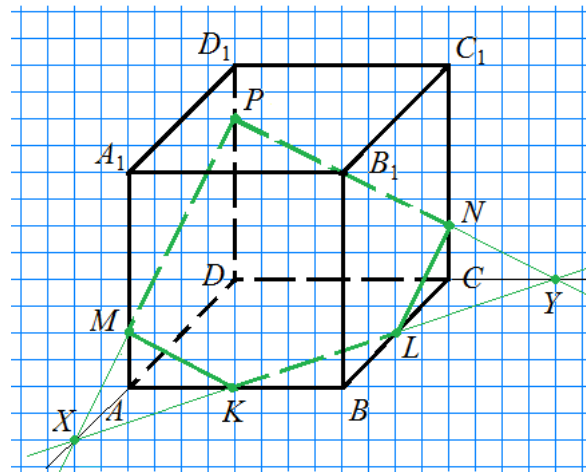


Рис. 5

На рисунке 5 прямая PN пересекает плоскость ABC в точке Y . Такую прямую называют наклонной к плоскости, или коротко: *наклонной*. Из точки P проведён перпендикуляр PD к плоскости ABC . Точку D называют проекцией точки P на плоскость ABC . Аналогично точка C — проекция точки N на плоскость ABC . Заметим, что наклонная PN и её проекция DC пересекаются в точке Y , принадлежащей следу секущей плоскости.

11. Назовите пять пар наклонных и их проекций. Где лежит точка пересечения наклонной и её проекции на плоскость?

СОВЕТ 4. Помните: точка пересечения наклонной и её проекции на плоскость принадлежит следу секущей плоскости.

12. Докажите утверждение, содержащееся в совете 4.

13. Ребро куба $ABCD A_1 B_1 C_1 D_1$ равно a . На ребрах AA_1 и BB_1 куба отметили точки M и N соответственно так, что $AM : MA_1 = 1 : 3$, $CN = NC_1$. На ребре DD_1

отметили точку P так, что $DP : PD_1 = 3 : 1$. Постройте сечение куба плоскостью MNP . Докажите, что след секущей плоскости проходит через точку B .

Построение.

1) PM ;

$PM \cap AD = X$;

2) PN ;

$PN \cap DC = Y$;

3) XY — след

секущей плоскости MNP ; $B \in XY$ (доказательство ниже);

4) MB ;

5) BN ;

$MBNP$ — искомое сечение.

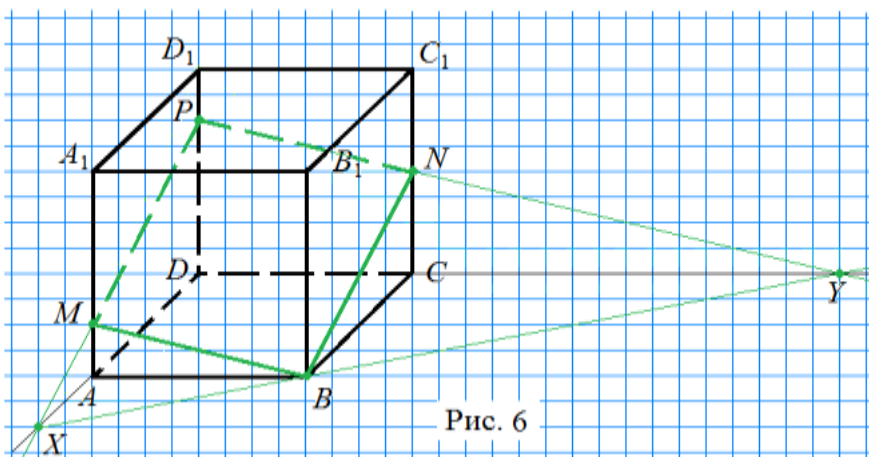


Рис. 6

Докажем, что $B \in XY$. $MA = \frac{a}{4}$, $PD = \frac{3a}{4}$, $NC = \frac{a}{2}$. Из подобия треугольников PDY и NCY (по двум углам) следует, что $CY = 2a$. Аналогично из подобия треугольников MAX и PDX следует, что $XA = \frac{a}{2}$.

Рассмотрим треугольники DXU и AXB . Так как $DY : AB = DX : AX = 3$, углы D и A этих треугольников равны, то треугольники DXU и AXB подобны (по двум сторонам и углу между ними). Следовательно, углы DXU и AXB равны и $B \in XY$, что и требовалось доказать.

14. Изучите понятия *параллельные плоскости*, *признак параллельности двух плоскостей*. Найдите на рисунке 6 параллельные плоскости. Докажите, что если плоскость пересекает две параллельные плоскости, то линии пересечения параллельны.

15. Докажите, что сечение куба, полученное в задаче 13, является параллелограммом.

Домашнее задание.

16.* Вычислите площадь сечения, построенного в задаче 13.

17.* В каком отношении сечение делит объём куба в задаче 13?

18. Дан куб $ABCD A_1 B_1 C_1 D_1$. M и N — середины рёбер AA_1 и CC_1 соответственно. На ребре DD_1 отметили точку P так, что $DP : PD_1 = 3 : 1$. Постройте сечение куба плоскостью MNP . Определите вид многоугольника, являющегося сечением куба.

Урок 3. Сечения куба

Разбор домашнего задания.

16. По теореме Пифагора вычислим длины отрезков:

$$PX = \frac{3a\sqrt{5}}{4}, PY = \frac{3a\sqrt{17}}{4}, XY = \frac{3a\sqrt{5}}{4}.$$

Сначала найдём площадь треугольника, подобного нашему, у которого стороны: $\sqrt{5}$, $\sqrt{17}$, $2\sqrt{5}$. Коэффициент подобия $k = \frac{3a}{4}$. По формуле Герона она

равна $\sqrt{21}$. Затем полученный результат умножим на квадрат коэффициента подобия k^2 . Площадь треугольника XPY равна $\frac{9a^2\sqrt{21}}{16}$. Теперь найдём площади двух подобных ему треугольников XMB и BNY : $\frac{a^2\sqrt{21}}{16}$ и $\frac{4a^2\sqrt{21}}{16}$. Площадь сечения равна $\frac{(9 - 1 - 4)a^2\sqrt{21}}{16} = \frac{a^2\sqrt{21}}{4}$.

17. Ответ. 5 : 3.

18. В отличие от предыдущих случаев, здесь след секущей плоскости не пересекает основания куба. Представим, что секущая плоскость пересекает ребро BB_1 в точке K . Тогда в плоскости BCC_1 наклонная NK должна пересекать свою проекцию BC на плоскость ABC в точке L , принадлежащей следу секущей плоскости. Значит, точку L можно найти как пересечение прямых BC и XY , а точку K — как пересечение прямых BB_1 и NL (закончите построение).

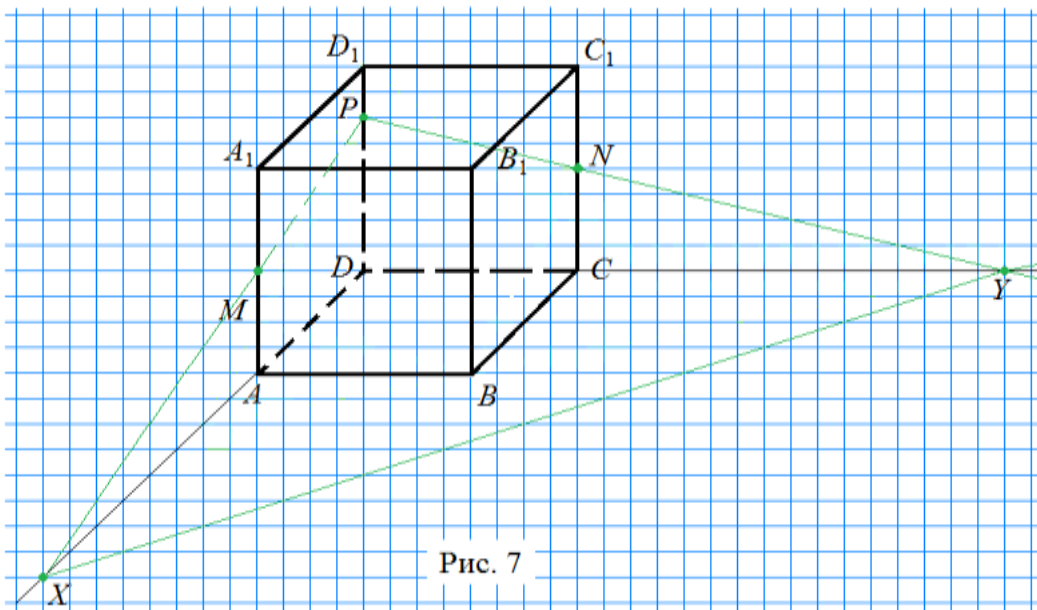


Рис. 7

В задаче **14** было доказано, что если плоскость пересекает две параллельные плоскости, то линии пересечения параллельны. Поэтому $MK \parallel PN$, $MP \parallel KN$, следовательно, сечение — параллелограмм.

19. Дан куб $ABCA_1B_1C_1D_1$. На его рёбрах DD_1 и BB_1 отметили точки P и N соответственно так, что $DP : PD_1 = 3 : 1$, $BN : NB_1 = 1 : 3$. M — середина ребра AA_1 . Постройте сечение куба плоскостью MNP .

Здесь можно построить точку X пересечения прямых MP и AD . Далее — точку Y пересечения прямых MN и AB . XY — след секущей плоскости (закончите построение).

Замечание. Через две параллельные прямые BB_1 и DD_1 можно построить плоскость DBB_1 , дающую вспомогательное сечение куба DBB_1D_1 . Проведём в этой плоскости прямую PN — это наклонная к плоскости ABC , она пересекает свою проекцию DB на плоскость ABC в точке Z , принадлежащей следу секущей плоскости. Следовательно, след секущей плоскости можно строить и с помощью вспомогательной плоскости.

20. Дан куб $ABCD A_1 B_1 C_1 D_1$. На его ребре DD_1 , на гранях $ABB_1 A_1$ и $BCC_1 B_1$ отметили точки K , M и N как показано на рисунке 8. Постройте сечение куба плоскостью MNK .

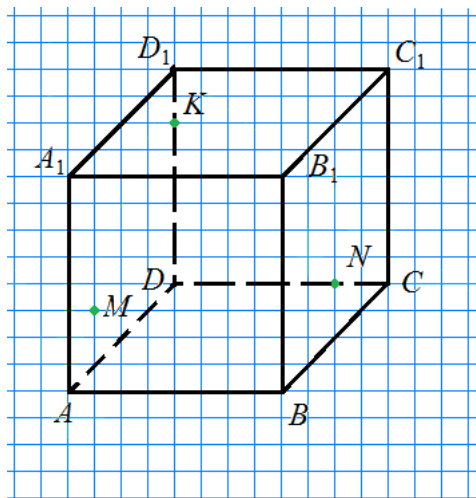


Рис. 8

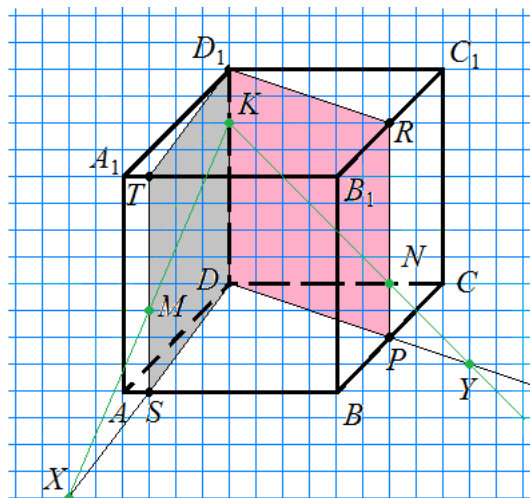


Рис. 9

В плоскости ABB_1 через точку M проведём прямую ST , параллельную ребру AA_1 , а значит, и ребру DD_1 (рис. 9). Через параллельные прямые DD_1 и ST проведём плоскость, она пересечёт нижнее и верхнее основания куба по прямым DS и D_1T . Получим вспомогательное сечение куба SDD_1T . В плоскости этого сечения проведём прямые MK и DS . Они пересекаются в точке X — это первая точка следа секущей плоскости.

Аналогично в плоскости BCC_1 через точку N проведём прямую PR , параллельную ребру CC_1 , а значит, и ребру DD_1 и построим вспомогательное сечение куба $DPRD_1$. На пересечении прямых DP и KN получим вторую точку следа секущей плоскости — Y (закончите решение).

Домашнее задание.

21. Можно ли выбрать на поверхности куба три точки так, что в сечении куба плоскостью, проходящей через эти точки, получится семиугольник? Объясните свой ответ.

22. Дан куб $ABCD A_1 B_1 C_1 D_1$. На его рёбрах DD_1 , DC и на грани $ADD_1 A_1$ отметили точки K , N и M как показано на рисунке 8. Постройте сечение куба плоскостью MNK .

23. Дан куб $ABCD A_1 B_1 C_1 D_1$. На его ребре DD_1 , на гранях $ADD_1 A_1$ и $BCC_1 B_1$ отметили точки K , M и N как показано на рисунке 8. Постройте сечение куба плоскостью MNK .

24.* Дан куб $ABCD A_1 B_1 C_1 D_1$. Точки M , N и K являются серединами его рёбер AB , CC_1 и $A_1 D_1$. Постройте сечение куба плоскостью MNK . Докажите, что это сечение является правильным шестиугольником.

Замечание. Кроме способа построения, аналогичного уже применявшимся, здесь можно воспользоваться советом:

СОВЕТ 5. Умный в гору не пойдёт, умный гору обойдёт.

Для этого надо построить замкнутую ломаную, соединив последовательно середины рёбер: AB , BC , CC_1 , C_1D_1 , D_1A_1 и A_1A . Потом доказать, что полученная ломаная лежит в плоскости MNK , проходит через заданные точки и является правильным шестиугольником.

Весьма интересный персонаж Е. Евстигнеева в фильме Э. Рязанова «Берегись автомобиля» сказал: «А не замахнуться ли нам на Вильяма, понимаете ли, нашего Шекспира?» Мы только начали заниматься сечениями, но возникает похожий вопрос: «А не замахнуться ли нам на задачу из подготовительного сборника к ЕГЭ?» На первых порах достаточно решить задание а), но если уже изучены теоретические сведения, необходимые для задания б), то эта задача нам уже по силам.

25.* В прямоугольном параллелепипеде $ABCD A_1 B_1 C_1 D_1$ известны длины рёбер $AA_1 = 15$, $AB = 12$, $AD = 8$. Точка K — середина ребра $C_1 D_1$, а точка L делит ребро BB_1 в отношении $4 : 1$, считая от вершины B_1 .

а) Найдите отношение, в котором плоскость LKA_1 делит ребро CC_1 , считая от вершины C_1 .

б) Найдите косинус угла между плоскостями LKA_1 и $A_1 B_1 C_1$.

Разбор домашнего задания.

21. Чтобы в сечении куба плоскостью получится семиугольник, стороны семиугольника должны принадлежать семи разным граням куба, а их всего 6. Следовательно, выбрать три такие точки невозможно.

24.* Построение.

1) P , R и S — середины отрезков $C_1 D_1$, BC и AA_1 соответственно.

2) KP , PN , NR , RM , MS и SK ; $KPNRMS$ — искомое сечение.

Доказательство.

$KP \parallel A_1 C_1$, $A_1 C_1 \parallel AC$, $AC \parallel MR$, следовательно, $KP \parallel MR$ и точки K , P , M и R принадлежат одной плоскости, обозначим её α .

$MR \cap DC = Y$, $Y \in \alpha$.

Так как M и R середины отрезков AB и BC и $ABCD$ — квадрат, то $MB = BR = RC$, а $RC = CY$ (из равенства треугольников MBR и YCR по катету и прилежащему острому углу).

Пусть $PY \cap CC_1 = N_1$. Из равенства треугольников $PC_1 N_1$ и YCN_1 по катету и противолежащему углу следует, что $C_1 N_1 = CN_1$, то есть N_1 — середина отрезка CC_1 . Следовательно, точки N_1 и N совпадают. Тогда N принадлежит плоскости α и плоскость α совпадает с плоскостью MNK .

Аналогично показывается, что $S \in MNK$. Тогда все вершины шестиугольника $KPNRMS$ лежат в плоскости MNK и $KPNRMS$ — искомое сечение, что и требовалось доказать.

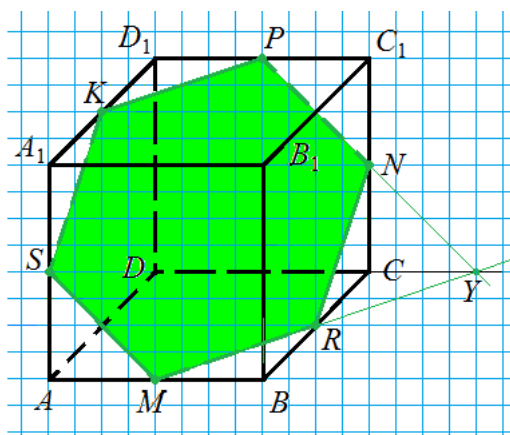


Рис. 10

Теперь докажем, что построенное сечение является правильным шестиугольником. Если $AB = a$, то по теореме Пифагора $KP = PN = NR = RM = MS = SK = NY = RY = 0,5a\sqrt{2}$, то есть стороны шестиугольника равны и треугольник NRU — равносторонний. Тогда внутренние углы шестиугольника R и N равны 120° , как смежные с углами равностороннего треугольника. Аналогично показывается, что все внутренние углы шестиугольника равны 120° , следовательно, этот шестиугольник правильный.

25.* Построение.

1) A_1K ; $A_1K \cap B_1C_1 = M$;

2) ML ;

$ML \cap C_1C = N$;

3) KN ;

A_1KNL — искомое сечение.

а) Теперь вычислим отношение $C_1N : NC$.

Из условия задачи следует, что $KC_1 = 6$, $B_1L = 12$. Из подобия треугольников A_1B_1M и KC_1M следует, что $B_1M = 16$, тогда $C_1M = 8$ и C_1N — средняя линия треугольника B_1ML , поэтому $C_1N = 0,5B_1L = 6$, а $NC = 15 - 6 = 9$.

Итак, $C_1N : NC = 6 : 9 = 2 : 3$.

б) Теперь вычислим косинус угла между плоскостями LKA_1 и $A_1B_1C_1$. Для этого найдём по теореме Пифагора $KM^2 = C_1M^2 + C_1K^2 = 8^2 + 6^2 = 100$, $KM = 10$. Треугольники KC_1M и NC_1M равны по двум катетам, следовательно, $NM = KM = 10$. Из вычисления площади треугольника KC_1M двумя способами получим $C_1P = 4,8$. В треугольнике KMN $KM = MN = 10$, $KN = 6\sqrt{2}$, а высота, проведённая к основанию, равна $\sqrt{82}$. Из вычисления площади треугольника KMN двумя способами получим $NP = 1,2\sqrt{41}$.

Учитывая, что C_1N является перпендикуляром к плоскости $A_1B_1C_1$, по теореме о трёх перпендикулярах прямая PN перпендикулярна прямой KM , тогда угол C_1PN является углом между плоскостями LKA_1 и $A_1B_1C_1$. Его косинус равен

$$\frac{C_1P}{PN} = \frac{4,8}{1,2\sqrt{41}} = \frac{4}{\sqrt{41}}.$$

Замечание 1. Если к моменту решения задачи изучено вычисление площади проекции фигуры, то, учитывая, что треугольник KC_1M является проекцией треугольника PC_1N , верно равенство $S_{KC_1M} = S_{KNM} \cdot \cos C_1PN$. Откуда можно получить $\cos C_1PN$, вычислив предварительно площади треугольников KC_1M и KNM .

Замечание 2. Решение экзаменационной задачи записано достаточно подробно с учебной целью, но и в нём некоторые очевидные вычисления пропущены и записаны их результаты. На экзамене запись решения может быть короче.

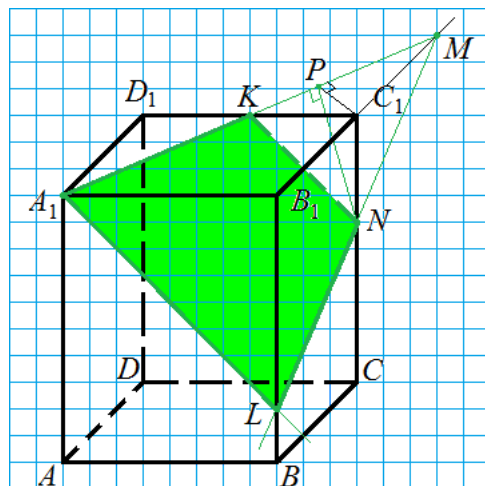


Рис. 11